

# 期末冲刺模拟试卷(一)

(时间: 90分钟 总分: 100分)

题号	一	二	三	四	五	总分	等级
得分							

经过一学期的努力,终于到了冲刺的关键时刻,把你所学的全都展示出来吧。也许你还不够好,但你会做得更好!

## 一、请你细心选一选。(10分)

1. 平方米和平方厘米之间的进率是( )  
A. 1000                      B. 10000                      C. 1000000
2. 夏令营从7月26日开始,共活动8天,( )结束。  
A. 7月31日              B. 8月1日                      C. 8月2日
3. 三位数除以一位数,商不可能是( )  
A. 一位数                      B. 两位数                      C. 三位数
4. 5个小朋友8分钟做了160朵纸花,平均每人每分钟做多少朵纸花? 算式是( )  
A.  $160 \div 5 \div 8$               B.  $160 \div 8 \times 5$                       C.  $160 \div 5 \times 8$
5. 被减数减少2.5,减数减少2.5,它们的差( )  
A. 减少2.5                      B. 减少5                      C. 不变

## 二、请你当个小法官。(对的画“√”,错的画“×”)(10分)

1. 二、四、六、九和十一月每月都是30天。 ( )
2. 125里面有25个5。 ( )
3. 用8个面积为1平方厘米的小正方形可以拼成一个大正方形。 ( )

4. 一个正方形,如果边长增加 5 厘米,面积就增加 25 平方厘米。

( )

5. 两位数乘两位数,积可能是三位数,也可能是四位数。( )

三、请你仔细算一算。(共 36 分)

1. 直接写得数。(12 分)

$35 \times 2 =$

$20 \times 30 =$

$505 \div 5 =$

$78 \div 8 =$

$66 \times 10 =$

$45 \times 5 =$

$9000 \div 3 =$

$88 \div 8 =$

$8 \times 6 + 9 =$

$1.1 + 2.2 =$

$6.8 - 0.4 =$

$6.2 - 1.2 =$

2. 列竖式计算,并验算。(12 分)

$198 \div 6 =$

$14 \times 32 =$

$38.7 + 42.5 =$

$245 \div 5 =$

$57 \times 28 =$

$56.8 - 25.9 =$

3. 脱式计算。(12 分)

$22 \times 4 \times 12$

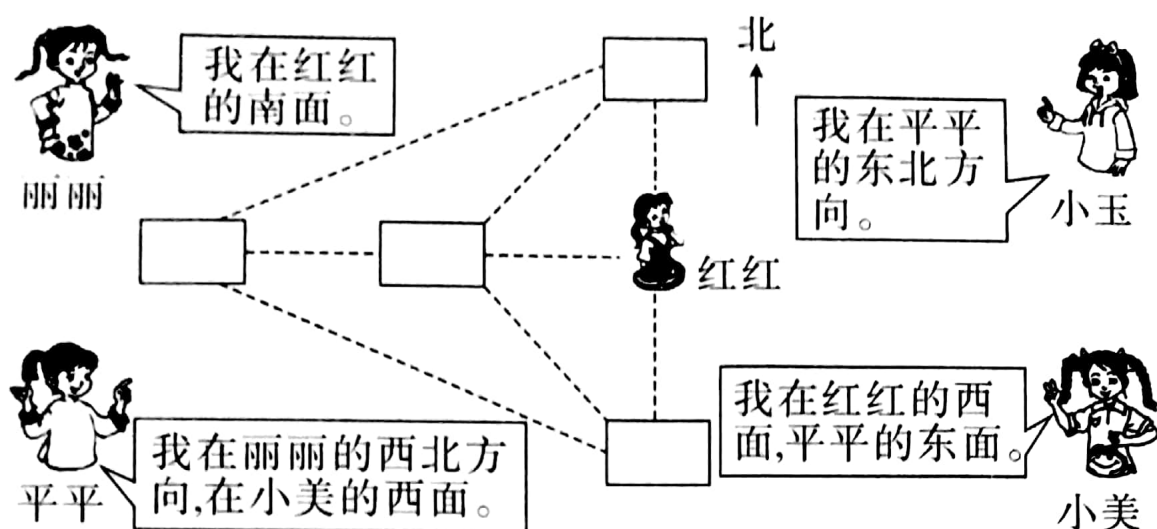
$162 \div 3 \div 6$

$24 \times 13 - 99$

$(479 + 3) \div 2$

四、先分析小朋友们的对话,再在图中注明每个小朋友所在的位置。

(8 分)




五、解决问题。(36 分)

1. 一个汽车制造厂 5 小时两条生产线共生产汽车 60 辆, 平均每条生产线每小时生产汽车多少辆?

2.  12.5 元

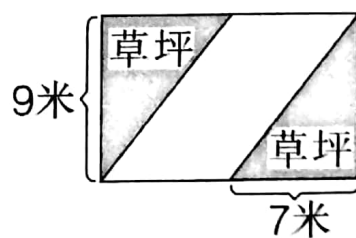
 32 元

 花瓶 49.2 元

 28.5 元

120 元最多可以买哪几种物品?

3. 爸爸出差,上午坐 8:50 的火车,下午 2:10 到达目的地,爸爸一共坐了多长时间的火车?
4. 学校买了 24 副象棋,12 副围棋,8 副国际象棋。如果把买回来的棋平均分给三年级 4 个班,每个班分得几副?
5. 小红有尼龙袜、毛线袜、丝光袜共 3 双,还有 2 双不同的鞋子,如果她要穿上鞋和袜,可有几种不同的穿法?
6. 如图,在一块长方形地上铺了两块三角形草坪,两块草坪之间是一条平行四边形的路。求草坪总面积。如果 1 平方米草皮需要 60 元,一共需要多少钱?



### 期末冲刺模拟试卷(一)

一、1. B 2. C 3. A 4. A 5. C

二、1. × 2. √ 3. × 4. × 5. √

三、2. 33 448 81.2 49 1596 30.9 3. 1056 9 213 241

五、1. 6 辆 3. 5 小时 20 分 4. 11 副 5. 6 种 6. 63 平方米 3780 元